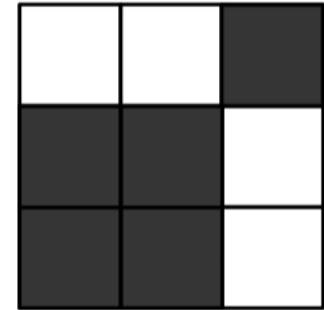






Wie sieht die sechste Seitenfläche aus?

Aus 27 kleinen Würfeln (15 schwarzen und 12 weissen) wurde ein grosser Würfel gebaut.

Unten sind fünf seiner Seitenflächen abgebildet.

Wie sieht die sechste Seitenfläche aus? Zeichne sie darunter korrekt in die Leerform.



Sechste Seitenfläche:

