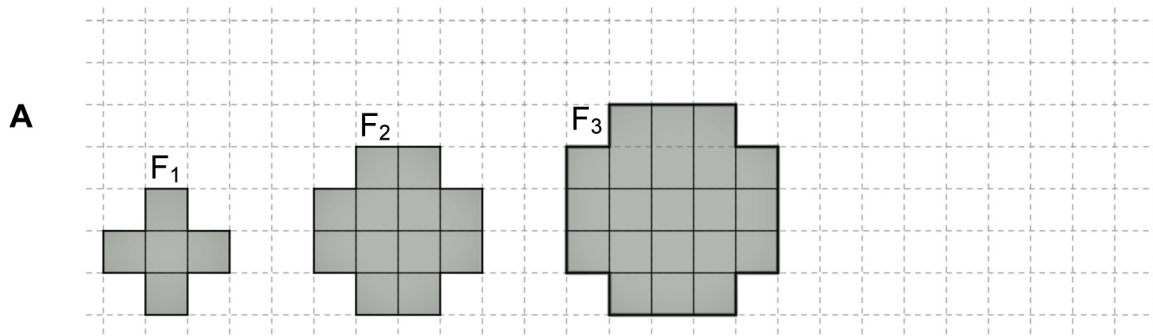
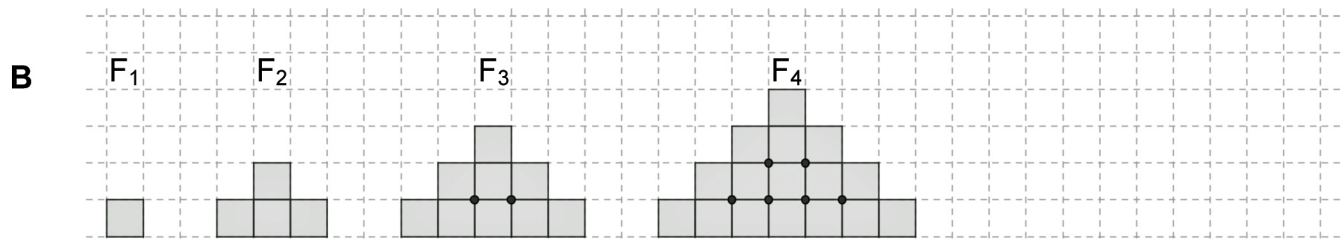


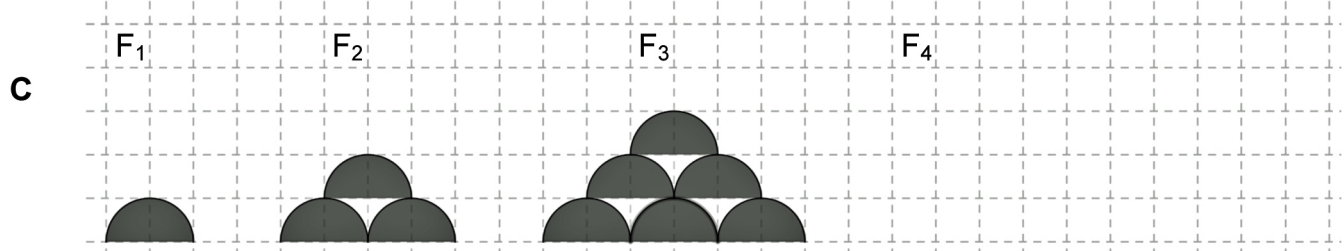
Zeichne jeweils die nächste Figur und vervollständige die Wertetabellen.



Figur F_x	1	2	3	4	5	6	8	10	15	20	30	x
Anzahl Quadrate												



Figur F_x	1	2	3	4	5	6	7	8	9	10	x
Anzahl Quadrate											
Anzahl Punkte											*



Figur F_x	1	2	3	4	5	6	7	8	9	10	x
Anz. Halbkreise											
Anz. Lücken											

Wie viele Halbkreise kommen von der 99. zur 100. Figur dazu?

Wie viele Lücken kommen von der 99. zur 100. Figur dazu?