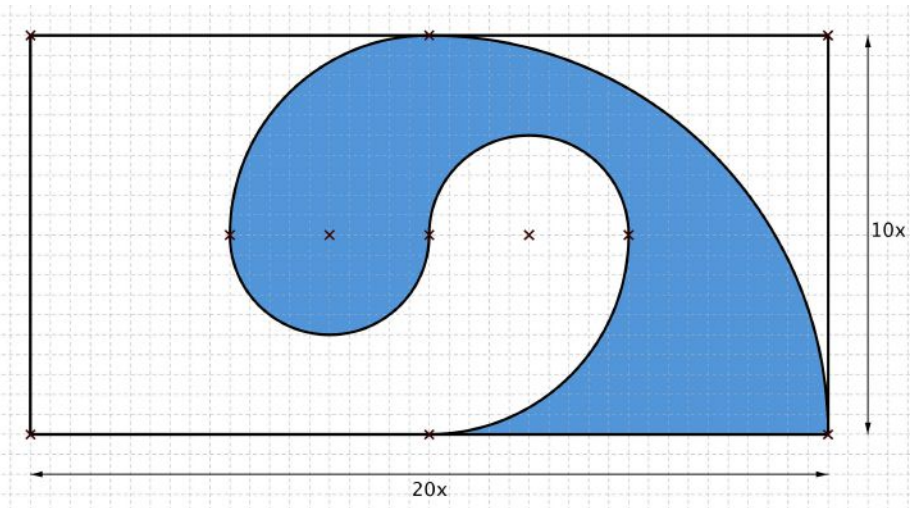


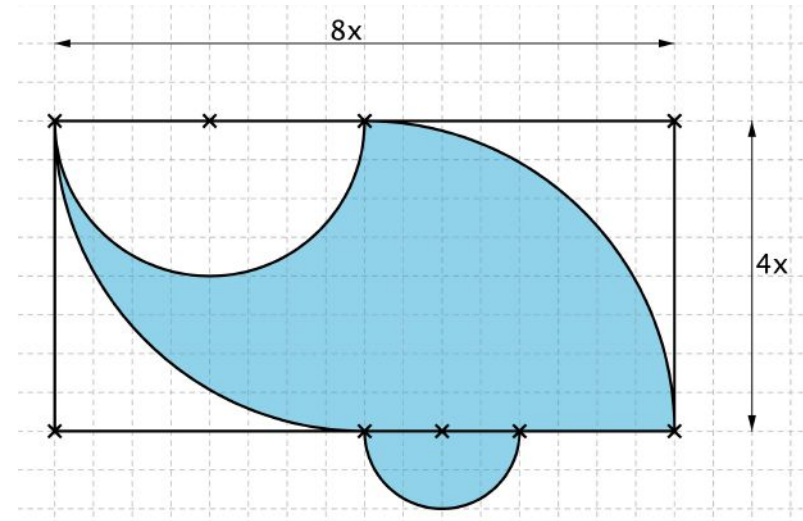
Aufgabe ‚Kreisfigur‘

Berechne von der blauen Kreisfigur den **Umfang u** und den **Flächeninhalt A** .



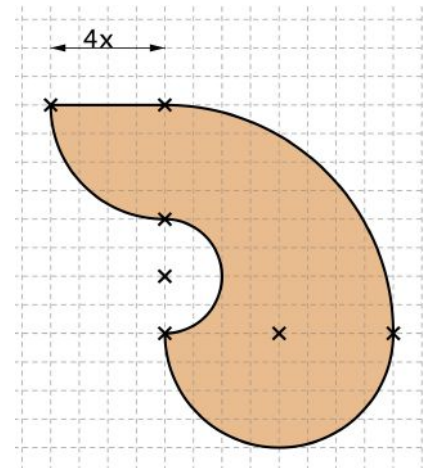
Aufgabe ‚Kreisfigur‘

Berechne von der blauen Kreisfigur den **Umfang u** und den **Flächeninhalt A** .



Aufgabe ‚Kreisfigur‘

Berechne von der blauen Kreisfigur den **Umfang u** und den **Flächeninhalt A** .



Aufgabe ‚Kreisfigur‘

Berechne von der blauen Kreisfigur den **Umfang u** und den **Flächeninhalt A** .

