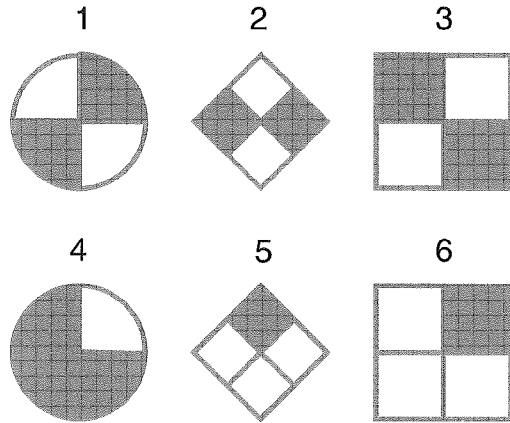
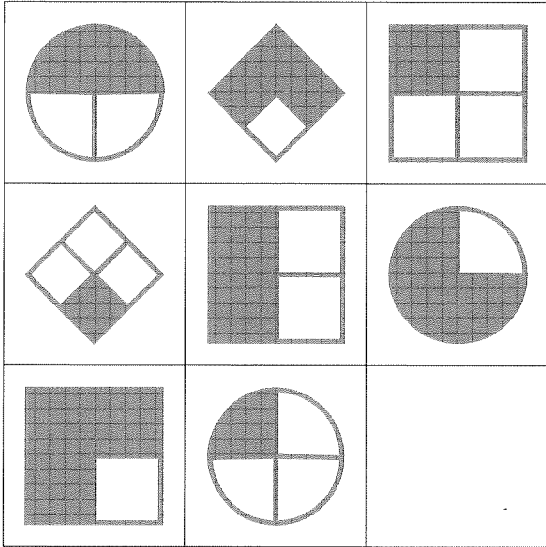


LEVEL 1

1

Welche der sechs nummerierten Figuren gehört in das leere Feld?



2

Mit welcher Zahl beginnt diese Reihe?

?

9

16

25

36

3

Welche Buchstaben fehlen?

C L

M D

? ?

O F

G P

Q H

LEVEL 1

4

Die fehlenden Zahlen sind einzufügen.
(Jedes Kästchen folgt einer eigenen Regel.)

A

9	15	21
3	5	?

B

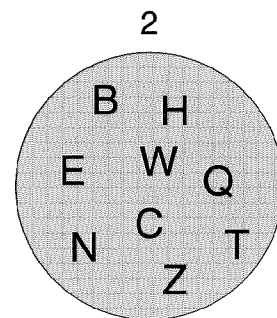
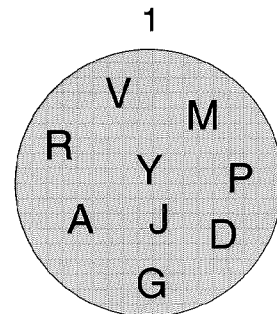
9	12	20
2	5	?

C

4	16	24
2	8	?

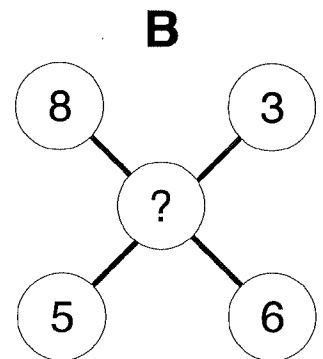
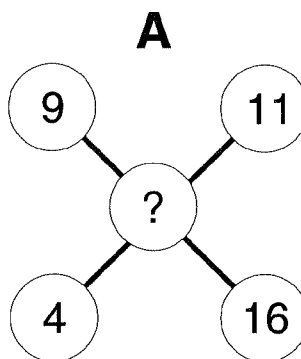
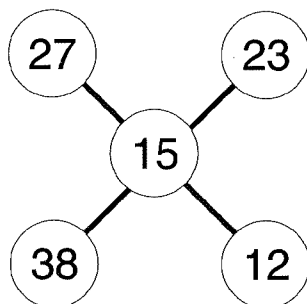
5

In jedem Kreis ist ein Buchstabe falsch - welcher?



6


Welche Zahlen fehlen in den Diagrammen A und B?



LEVEL 1

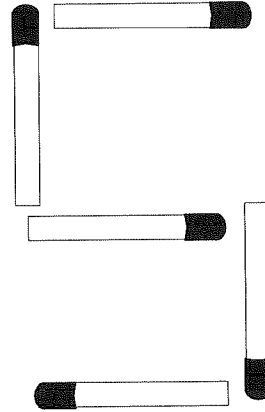
7

Welche Zahl fehlt?



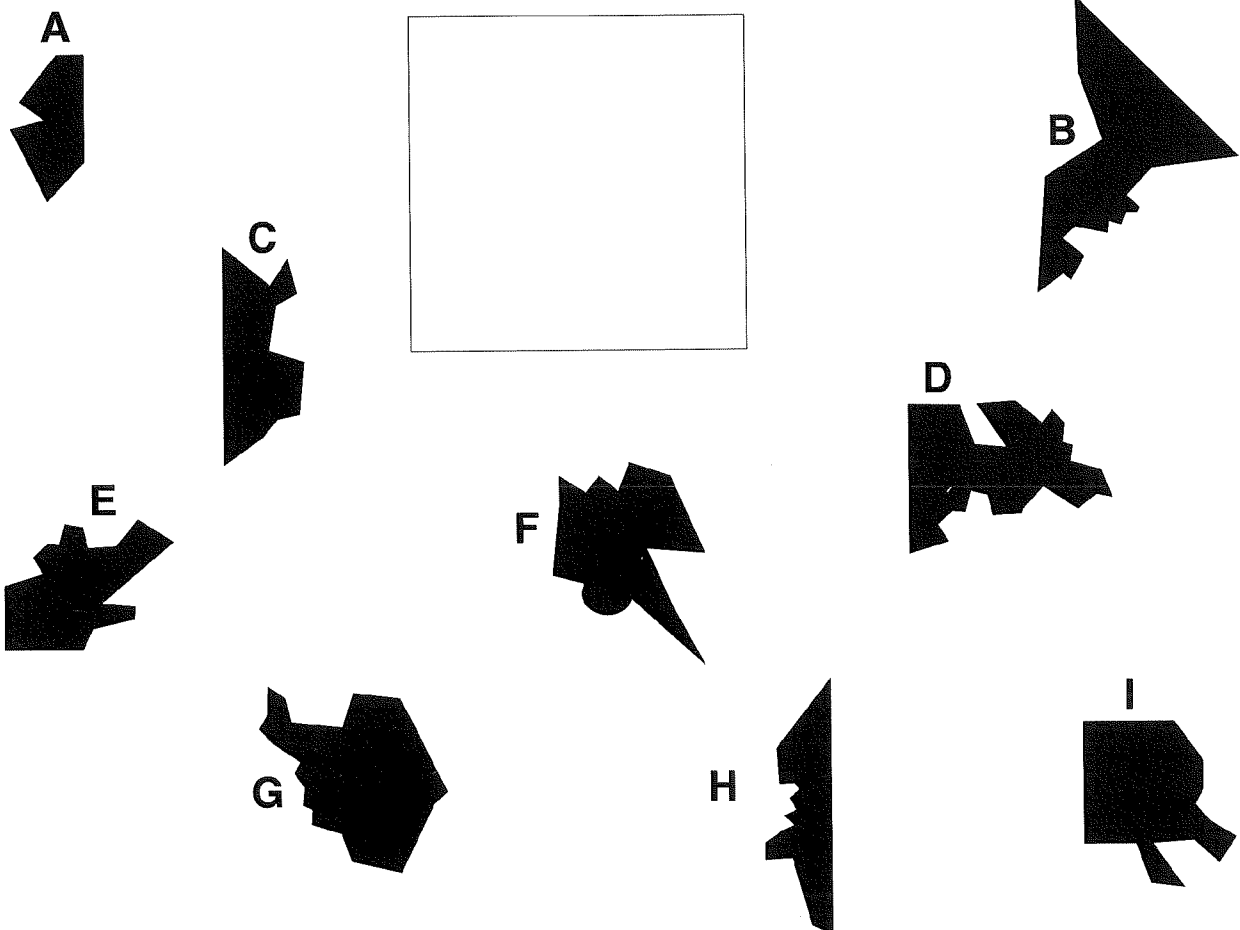
8

Diese Streichhölzer kann man so umlegen, daß sie die Zahl 16 ergeben.



9

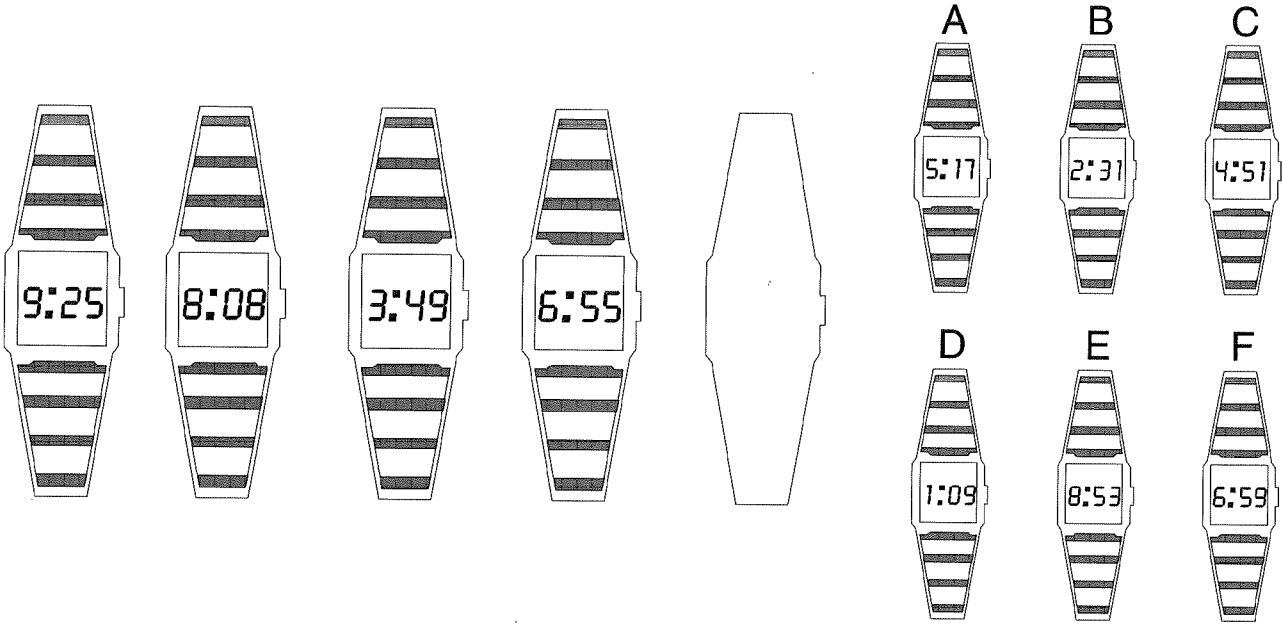
Die abgebildeten Puzzleteile, ergeben ein Quadrat - eines ist jedoch zuviel. Welches?



LEVEL 1

10

Welche der sechs abgebildeten Uhren gehört ins leere Feld?



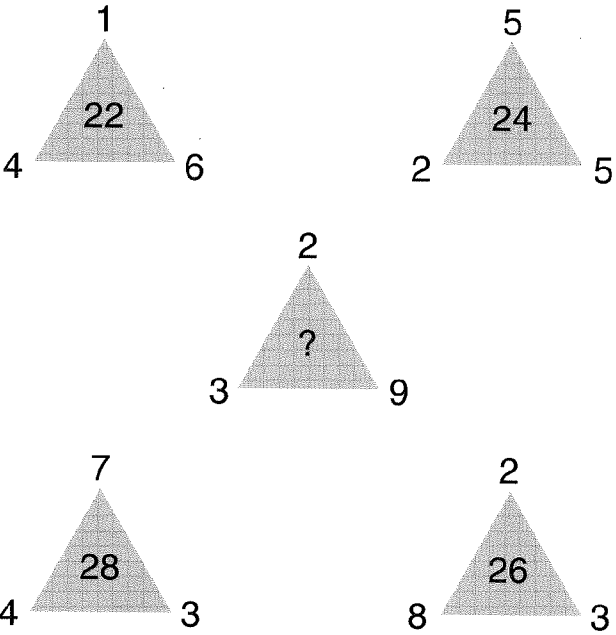
11

Welcher Buchstabe fehlt?

- B
- E
- I
- L
- P
- ?
- W

12

Welche Zahl fehlt?



LEVEL 1

13

Welches der fünf nummerierten Buchstabenkreuze paßt in das Loch?

A	C	F	J	O	U	B	J	S	C
B	E	I	N	T	A	I	R	B	L
D	H	M	S	Z	H	Q	A	K	T
G	L	R	Y			Z	J	S	A
K	Q	X					R	Z	G
P	W	E					Y	F	L
V	D	M	W			X	E	K	P
C	L	V	F	O	W	D	J	O	S
K	U	E	N	V	C	I	N	R	U
T	D	M	U	B	H	M	Q	T	V

1

	G	P	
Q	H	X	N
F	O	Y	I
	G	P	

2

	F	N	
G	X	O	G
P	H	Y	P
	Q	I	

3

	E	K	
D	J	O	S
I	N	R	U
	Q	T	

4

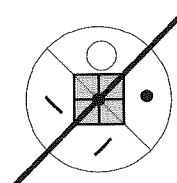
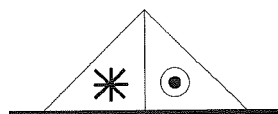
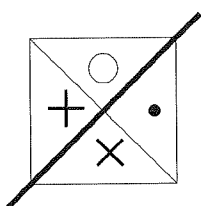
	G	P	
F	O	Y	I
N	X	H	Q
	G	P	

5

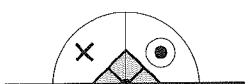
	G	M	
F	L	R	Y
K	Q	X	F
	W	E	

14

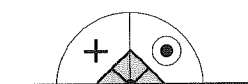
Wie lautet die Lösung?



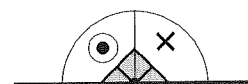
A ist zu **B** wie **C** ist zu



D



E

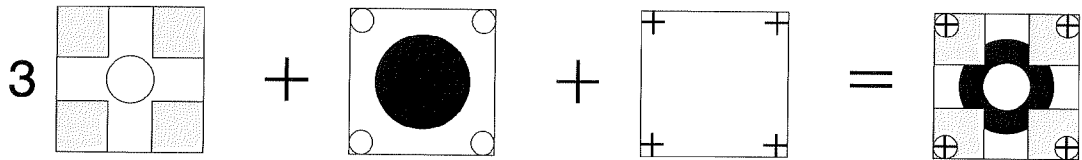
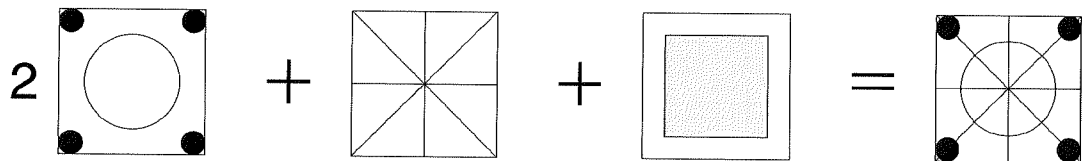
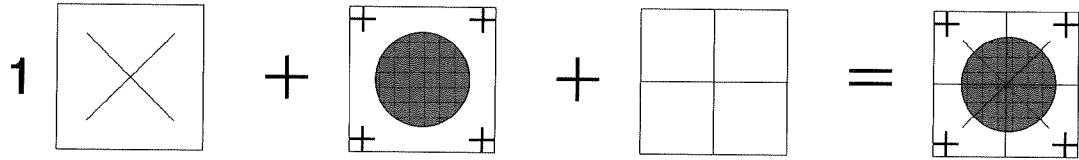


F

LEVEL 1

15

Welche Aussage ist falsch?



16


Wenn das Feld mit dem Stern das Ziel ist,
wo ist dann der Start?

Ein Feld in Richtung Norden
ziehen, wenn auf Feld 1N,
2 Felder Richtung Süden,
wenn auf Feld 2S, usw.

2S	2S	1W	2O	4W	1S
4S	2S	2O	2W	3W	5W
2O	2O	2S	3S	1N	★
2O	2S	1N	2N	1W	5W
1N	2O	3O	2W	4N	1W
2O	3O	5N	2O	2N	3N

17

Wie kann man mit zwei Geraden das Quadrat in vier Sektoren mit je drei der verschiedenen Symbole unterteilen?






18

Wenn ein Hund der Zahl 5 entspricht, welchen Wert haben dann die anderen Tiere?

				= 20
				= 23
				= 23
				= 22

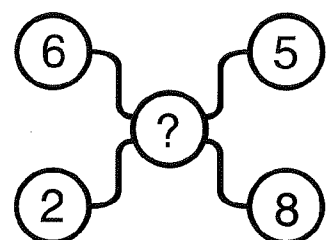
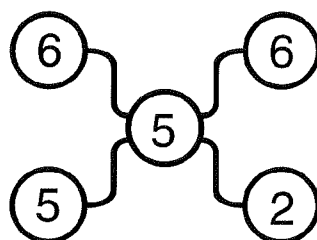
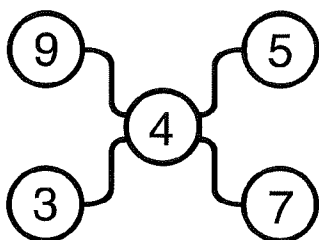
19

Wie lautet der fehlende Buchstabe?



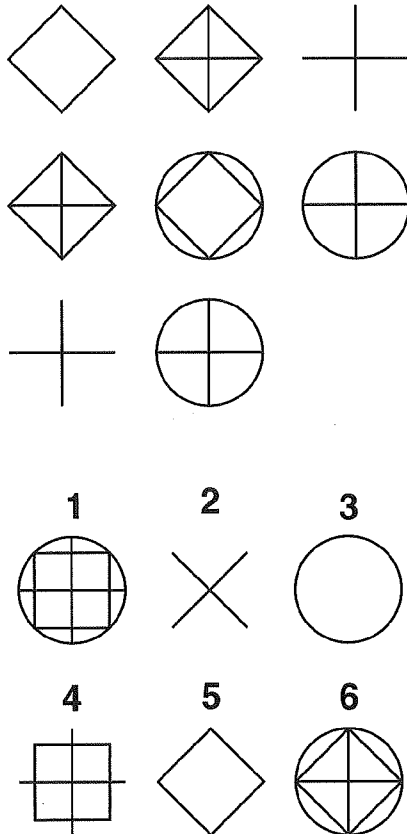
20

Wie lautet die fehlende Zahl?



21

Welche der nummerierten Figuren gehört in diese Serie?



22

Eine der folgenden Aussagen ist falsch - welche?

A $2943 = 9$

B $2376 = 9$

C $7381 = 6$

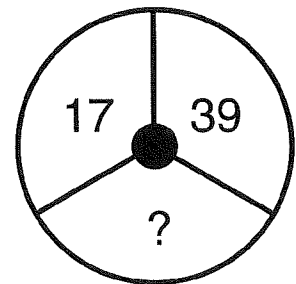
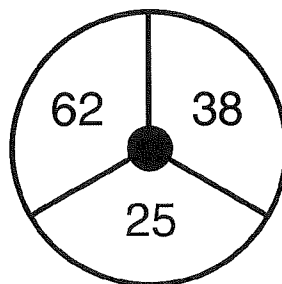
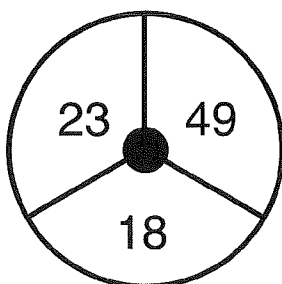
D $4911 = 6$

E $7194 = 3$

F $5601 = 3$

23

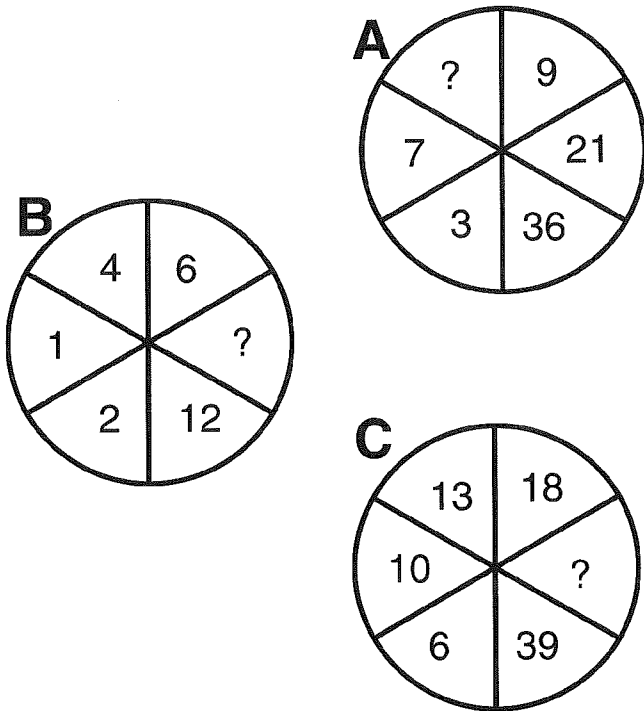
Welche Zahl fehlt?



LEVEL 1

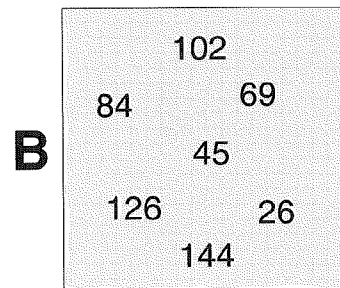
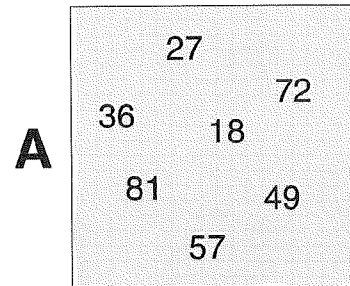
24

Welche Zahlen fehlen?



25

In jedem der Quadrate ist eine Zahl falsch. Welche?



26

Welches Symbol setzt die Reihe fort?



LEVEL 1

27

Welche der sechs nummerierten Personen ist die gesuchte?



28

Welche Buchstaben fehlen?

